

# 华大新高考联盟 2021 届高三 4 月教学质量测评

## 文科综合能力测试



扫码关注 查询成绩

命题: 华中师范大学考试研究院

成绩查询网址: huada.onlyets.com 关注微信公众号查询成绩: ccnu-testing

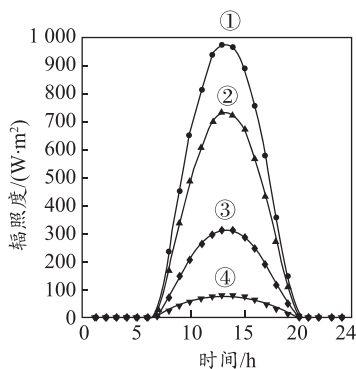
本试卷共 12 页, 47 题(含选考题)。全卷满分 300 分。考试用时 150 分钟。

### 注意事项:

1. 答卷前, 考生务必将自己的姓名、准考证号填写在答题卡上。
2. 回答选择题时, 选出每小题答案后, 用铅笔把答题卡上对应题目的答案标号涂黑。如需改动, 用橡皮擦干净后, 再选涂其他答案标号。回答非选择题时, 将答案写在答题卡上。写在本试卷上无效。
3. 考试结束后, 将本试卷和答题卡一并交回。

一、选择题: 本题共 35 小题, 每小题 4 分, 共 140 分。在每小题给出的四个选项中, 只有一项是符合题目要求的。

太阳辐照度( $W/m^2$ )是指太阳辐射经过大气层的吸收、散射、反射等作用后到达固体地球表面上单位面积、单位时间内的辐射能量, 是影响太阳能光伏电站输出功率的最直接、最显著的因素。某研究小组测量制得桂林某时段(北京时间)不同天气状况下辐照度变化曲线图(如图)。据此完成 1~2 题。



1. 该时段最接近  
A. 元宵节                      B. 妇女节                      C. 端午节                      D. 国庆节
2. 曲线④代表的天气状况最有可能是  
A. 晴天                          B. 阴转晴                      C. 阴天                          D. 多云

春节前夕, 广西某地一群特殊的“住户”——上万头猪陆续搬进了一栋 12 层楼高的“洋房”。“楼房养猪”采用封闭式管理, 各楼层的温度、湿度等可自动调节, 喂料、排粪等操作都通过自动化控制完成。配套建设的粪污智能化收集处理发酵系统把粪便、污水处理发酵成有机化肥, 就地给林木施肥。据此完成 3~5 题。

3. “楼房养猪”的关键在于  
A. 市场渠道拓宽              B. 国家政策支持              C. 科学技术保障              D. 生产成本低

4. 与传统的平房养猪相比,“楼房养猪”的突出优势是

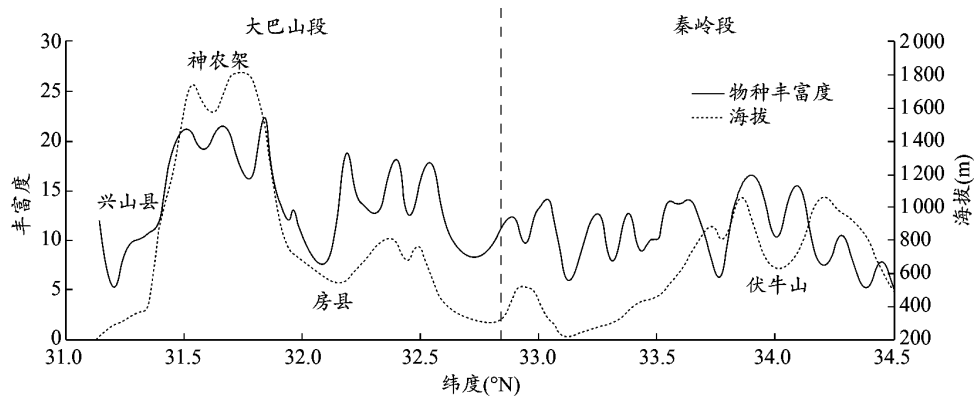
- A. 节约能源                      B. 节省劳动力                      C. 节约资金                      D. 节约土地资源

5. 该猪场发酵制成的有机化肥,就地给林木施肥可以

- ①变粪为宝,废物利用                      ②改良土壤,增加肥力  
③改善环境,净化空气                      ④改良作物,增加品种

- A. ①②③                      B. ①②④                      C. ①③④                      D. ②③④

植被是反映自然地理环境的“镜子”。以秦岭—大巴山为主体的中国南北过渡带,是中国南北地理和气候的天然界线。下图示意秦岭—大巴山东段南北样带乔木物种丰富度随纬度梯度变化情况。据此完成6~7题。



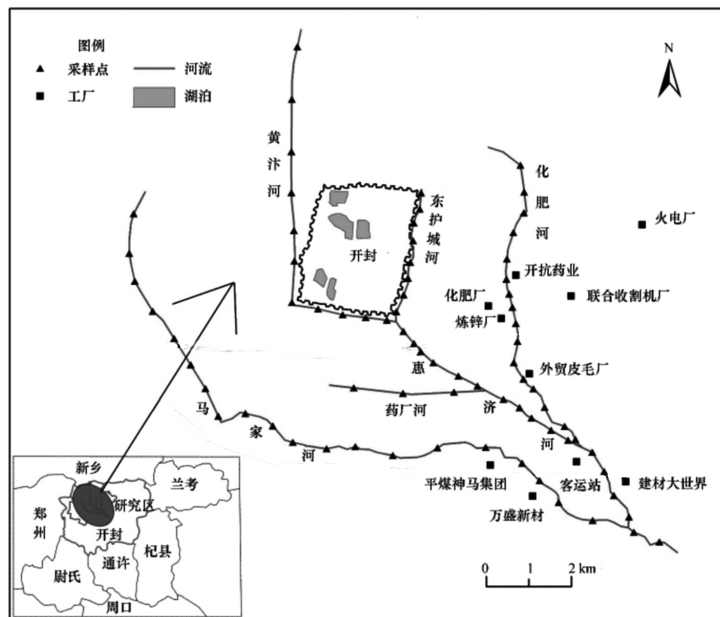
6. 图中秦岭段物种丰富度最大地点的海拔约为

- A. 800米                      B. 900米                      C. 1100米                      D. 1200米

7. 与神农架相比,房县物种丰富度较低的原因最可能是

- A. 纬度较高,热量较少                      B. 山地北坡,光照不足  
C. 山地北坡,降水较少                      D. 海拔较低,人为干扰

下图所示为开封市略图,黄河从其北面流过,某研究小组对图中河流的重金属污染进行考察研究。据此完成8~9题。



8. 图中河流重金属污染最严重的可能是

- A. 黄汴河                      B. 马家河                      C. 惠济河                      D. 化肥河

9. 下列河流中,受图中河流的重金属污染影响最大的是

- A. 黄河                      B. 淮河                      C. 海河                      D. 长江

H公司是一家为世界各地通信运营商及专业网络生产销售通信设备和提供服务的民营高科技企业。该公司从1996年正式实施国际化行动以来,在海外的扩张之路艰难而成功。从1997年起合资或收购了俄罗斯的多家电信公司,2015年起在印度筹建海外最大研发中心及全球服务中心,地点在有“印度硅谷”之称的班加罗尔。据此完成10~11题。

10. H公司合资或收购俄罗斯多家电信公司最主要的目的是

- A. 利用廉价原料                      B. 分散投资风险  
C. 拓展更大市场                      D. 降低内部交易成本

11. H公司在印度筹建海外最大研发中心及全球服务中心,选址主要考虑

- ①市场广阔    ②技术人才    ③两国距离近    ④协作条件好

- A. ①②                      B. ②③                      C. ②④                      D. ③④

12. 2021年以来,疫情之下海外“宅经济”需求继续升温,中国电子消费产品成为国外青睐的抢手货,需求量不断上涨;但受国内疫情影响,国内电子消费行业仍处于生产低谷,产品供给持续萎缩。这导致近期中国电子消费产品价格持续看涨。不考虑其他因素的影响,下列四幅图( $D$ 表示需求曲线, $S$ 表示供给曲线)正确反映了近期我国电子消费产品市场状况的是



13. 扩大开放、大幅度放宽内外资市场准入,是构建“双循环”新发展格局的根基性命题。2021年3月1日,工信部指出:“全面开放一般制造业,有序放开电信领域外资准入限制。”这一政策付诸实施后对我国带来的影响,推导正确的是

- ①外资全面进入一般制造业→一般制造业企业加强科技创新→一般制造业企业的整体技术创新竞争力提高→一般制造业企业总体盈利增加  
②外资全面进入一般制造业→一般制造业企业盈利明显减少→一般制造业企业不断缩小生产规模→一般制造业企业逐步向先进制造业转型  
③外资开始进入电信领域→我国优化电信领域贸易和投资政策→我国形成电信贸易新业态新模式→我国巩固电信领域“双循环”发展格局  
④外资开始进入电信领域→电信领域中外国际合作不断增加→一般电信企业不断提高管理、技术水平→我国电信行业增强国际竞争新优势

- A. ①②                      B. ①④                      C. ②③                      D. ③④

14. 渐进性延迟退休是 2021 年全国两会热议话题。由于住房、教育、医疗支出的压力,部分人质疑渐进性延迟退休,他们担心过了 40 岁就找不到工作,也担心行业间的退休待遇差距会越来越大。可见,推进渐进性延迟退休需要
- ①完善收入分配制度,促进基本公共服务均等化
  - ②促进收入分配公平,消除行业间退休待遇差异
  - ③劳动者自觉转变就业观,通过竞争实现再就业
  - ④加快完善社会保障制度,增强劳动者的获得感
- A. ①②                      B. ①④                      C. ②③                      D. ③④
15. 2021 年 3 月 14 日,“十四五”规划和 2035 年远景目标纲要正式公布:海上风电、西南水电、沿海核电展示碳中和决心;生态区、森林带、海岸带扮靓生态系统保护和修复的美丽中国图景;“两横三纵”描绘着国土空间的未来布局。这些规划纲要
- ①有助于建立更加有效的区域协调发展新机制
  - ②旨在加快城乡融合发展步伐,实现乡村振兴
  - ③通过强制性指令为未来中国的发展指明方向
  - ④展现了中国推动绿色发展、协调发展的决心
- A. ①②                      B. ①④                      C. ②③                      D. ③④
16. “十四五”开局以来,党和国家始终坚持以人民为中心,时刻把人民的冷暖放在心上,更加关注补齐民生领域短板,统筹做好就业、社保、养老等民生工作。一项项惠民政策接连出台,一笔笔民生支出相继落地。这彰显了
- ①中国人民生活在自己当家作主的社会主义国家
  - ②国家保障广大人民的利益得到日益充分的实现
  - ③我国为人民当家作主构建了一整套的制度体系
  - ④社会主义制度保证人民能享有广泛的民主权利
- A. ①②                      B. ①④                      C. ②③                      D. ③④
17. 当前,一些单位虽掌握大量社会数据,却因各种理由排斥数据共享。2021 年 3 月,H 市出台“无证明城市”专项实施方案,通过实现政府系统内部的数据流通,省去群众开具并提供证明的繁琐程序。这一实施方案的出台是政府
- ①深入推进简政放权,不断精简职能的表现
  - ②深化行政体制改革,转变政府职能的表现
  - ③为人民群众诚心诚意办实事解难题的体现
  - ④推进依法治国以提高执政管理水平的体现
- A. ①②                      B. ①④                      C. ②③                      D. ③④
18. 实现中华民族伟大复兴的中国梦,就要以铸牢中华民族共同体意识为主线,把民族团结进步事业作为基础性事业抓紧抓好,增强各族群众对伟大祖国、中华民族、中华文化、中国特色社会主义的认同。这是因为
- ①增强民族认同,促进民族团结才能顺利推进现代化建设
  - ②促进民族团结,增强共同体意识是保障民族平等的基础

③践行民族平等原则要求各民族平等地享有政治文化权利

④增进民族团结和国家、文化认同是增强综合国力的要求

A. ①②

B. ①④

C. ②③

D. ③④

19. 2021 年春节期间,秀逸韵致的文艺节目《唐宫夜宴》,运用虚实结合的舞台科技,将盛唐的风采和少女的灵动搬上舞台,再现盛唐时期的大国气象和以“唐三彩”为代表符号的唐韵之美,让国宝、国风与国潮同频共振。这启示我们

①应推动中华优秀传统文化创造性转化、创新性发展

②对待优秀传统文化应坚持既批判继承,又创新发展

③现代信息技术具有日益强大的传播、创造文化的功能

④文化创新表现在为传统文化注入时代精神的努力之中

A. ①②

B. ①④

C. ②③

D. ③④

20. 展开浩瀚悠长的历史画卷,中华各民族相互欣赏,相互借鉴:从赵武灵王胡服骑射,到北魏孝文帝汉化改革。从边疆民族习用雅歌儒服,到中原盛行胡衣胡帽,各民族交相辉映,造就了精彩纷呈的中华文化。这主要告诉我们

①中华文化在世代相传中吸收了中华各民族文化的积极成分

②中华各民族的文化都是文化瑰宝,都是中华民族的骄傲

③中华民族具有厚重的文化底蕴和异常强大的民族凝聚力

④中华各民族文化在漫漫历史长河中相互融合,逐渐同一

A. ①②

B. ①③

C. ②④

D. ③④

21. 传统成像技术是对视域内的物体进行观测,非视域成像技术能实现“视线拐弯”“隔墙观物”。2021 年 3 月,中国潘建伟团队通过实验实现了 1.43 公里的远距离非视域成像,这为未来医疗检测、军事侦察等的发展带来了福音。这体现了

①人们能改变和创造条件建立新的具体联系

②不同时期人们的实践内容和形式是不同的

③人能能动地认识世界也能能动地改造世界

④人们能突破客观条件的制约建立新的联系

A. ①②

B. ①③

C. ②④

D. ③④

22. 右图漫画《组装》(作者:巫德华)讽刺了一种现象,它启示我们想问题办事情应

①坚持实事求是,避免不明事理

②擅于相机行事,拒绝削足适履

③懂得因事制宜,反对胡乱蛮干

④善于求同存异,力避照猫画虎

A. ①③

B. ①④

C. ②③

D. ②④



23. “自然击你以风雪,你报之以歌唱。命运置你于危崖,你馈人间以芬芳。”获评感动中国 2020 年度人物的张桂梅身患重病却扎根边疆教育一线,用几十年如一日的坚守为 1 800 多名女孩铺就走出大山的路。这告诉我们

- ①社会提供的客观条件是人们实现人生价值的前提
- ②一个人对人生道路的选择会受一定价值观的影响
- ③人的价值只在创造价值,只在个人对社会的奉献
- ④人能在实践中创造价值,也能在生活中享用价值

A. ①②                      B. ①③                      C. ②④                      D. ③④

24. 史载,春秋时期,诸侯国对国境耕地的开发浪潮日渐高涨:郑人“斩之蓬蒿藜藿而共处之”;楚国初迁汉江“辟在荆山,筦路蓝缕,以处草莽”。春秋时期的开拓高潮
- A. 导致地方行政区划发生剧变                      B. 致使传统的分封制受到冲击
- C. 推动旧的区域文明开始交融                      D. 造成王室力量遭到直接削弱
25. 汉代史籍中所见官员履历,大多历任数职,转仕各地:如著名循吏召信臣曾经转仕七处,黄霸曾经转仕九处;东汉循吏任延转仕地点竟然多达十处,西北至武威,东南到会稽,南至九真。官员丰富的地方履历有利于
- A. 完善汉代选官制度                      B. 削弱汉初王国力量
- C. 巩固汉代儒家思想                      D. 加深国家统一观念
26. 北宋危亡之际,画家李唐创作《晋文公重耳复国图》,描绘东周时期晋国公子重耳遭流放,辗转流亡数国,最终重返晋国,当上晋国国君,并成为春秋五霸之一的故事。李唐创作此画意在劝诫宋朝统治者



- A. 积极改革、扫除弊政                      B. 重用贤臣、选拔人才
- C. 卧薪尝胆、实现复兴                      D. 吸取教训、富国强兵
27. 明太祖朱元璋在洪武二十五年编写的《醒贪简要录》中详细载明各级官员的禄米数额,并将米数折算成谷数,再算出每亩田地出产的谷数和投入人力的多少。这体现出朱元璋意在
- A. 清查官员隐匿的田产                      B. 进行赋税制度改革
- C. 促进农业生产的恢复                      D. 提醒官员体恤百姓
28. 有学者指出,近代以来,在中国 32 个传统的手工业部门中,鸦片战争后衰落的只有 7 个,继续维持的有 10 个,有较大发展并向机制工业过渡的则有 15 个,另外产生了新兴的手工工业 11 个。这表明近代中国
- A. 贸易发展促进了近代经济转型                      B. 列强侵略瓦解传统自然经济
- C. 近代民族工业体系已初步建立                      D. 传统的手工业观念根深蒂固
29. 鲁迅指出:“我们要说现代的,自己的话;用活着的白话,将自己的思想,感情直白地说出来”;是“抱着古文而死亡”,还是“舍掉古文而生存”的问题成了两种不同的人生选择。据此可知,鲁迅倡导白话文旨在

- A. 反对封建愚昧迷信
- B. 抨击封建专制制度
- C. 主张全面学习西方
- D. 追求人的思想独立

30. 下表为五四运动前后,中国工人的思想概况。

五四运动前	由俄国回国的中国劳工,带回了俄国十月革命及俄国工人斗争的有关情况
	从欧洲其他国家回国的中国工人,也带来种种有助于工人觉醒的新思想、新观念
五四运动后	一部分略有社会主义思想的知识青年深入工人中间做宣传,使工人之中渐渐产生出一部分有阶级觉悟、有社会主义倾向的人

据此可知,工人阶级的觉醒

- A. 为中国共产党成立奠定了阶级基础
- B. 推动了马克思主义在中国广泛传播
- C. 取决于中国近代民族工业发展水平
- D. 改变了近代中国社会阶级力量对比

31. 1953年蔡振华创作的宣传画《把更多的钢铁送到祖国建设的最前线》,画面上的钢铁工人,豪情万丈,干劲十足,努力生产更多的钢铁。

该画揭示的时代主题是

- A. 抗美援朝战争的爆发
- B. 建国初期工业化基础的奠定
- C. 工业生产的全面跃进
- D. 对国民经济的社会主义改造



把更多的鋼鐵  
送到祖國建設的最前綫

32. 下表为古希腊历史学家波利比乌斯对罗马共和国政治制度的分析。

君主政治	最高行政长官执政官由选举产生、任期为一年
贵族政治	元老院决定国家内外政策、通过法律
民主政治	公民大会具有选举权和立法权

他意在说明罗马共和政体

- A. 有利于公民直接行使国家权力
- B. 调动了罗马公民积极参政的热情
- C. 体现了权力的相互配合与制衡
- D. 推动了法律完善以防范独裁统治

33. 统一后的德国,虽然俾斯麦推行反社会民主党的《反社会主义法》,但社会民主党领袖仍然可以在国会声讨俾斯麦的倒行逆施;虽然有选举法的重重障碍,但到1912年,社会民主党还是成为国会中拥有最多议席的政党。这反映了德国

- A. 两党政治逐渐成熟与完善
- B. 国会成为国家权力中心
- C. 民主政治得到建立与发展
- D. 君主立宪制已形同虚设

34. 20世纪80年代初,苏联“国营商店里一公斤肉大约收款1.8卢布,而国家对一公斤肉的补贴多达3.5卢布。食品行业中仅此一项,每年的国家补贴总额就在600亿卢布以上,而整个国家预算是4800亿卢布”。这表明苏联

- A. 计划经济体制已无法维系
- B. 社会保障体系较为健全
- C. 社会贫富悬殊已日益扩大
- D. 货币制度改革迫在眉睫

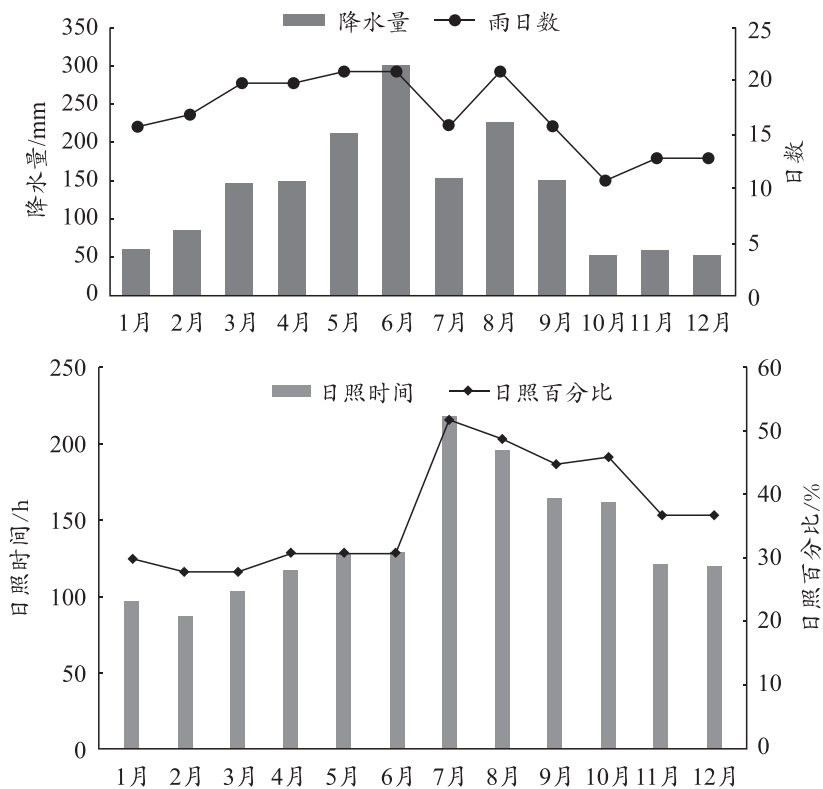
35. 1981年,美国总统里根批准成立了总统特别小组,审核了91种现行管理企业生产经营的法令条例,撤销或即将撤销、放宽了包括《矿工安全法》、《汽车交通安全法》、《水污染控制法》等法律法规。这一改革措施
- A. 减少了政府对经济的干预  
B. 缓和了日益加剧的劳资矛盾  
C. 打击了私人企业垄断利益  
D. 扩大了政府部门的行政权力

二、非选择题:共160分。第36~42题为必考题,每个试题考生都必须作答。第43~47题为选考题,考生根据要求作答。

(一)必考题:共135分。

36. 阅读图文资料,完成下列要求。(22分)

福安市位于福建省东北部,三面环山,一面临海。福安市穆阳水蜜桃主要分布在福安市西部的穆阳流域两岸穆阳、穆云等地区。穆阳水蜜桃果大核小,果实成熟期在6月~8月,其色泽鲜明、外观美观、肉质柔软,多汁、味甜、浓香、风味独特,有“穆阳仙桃”“闽东珍果”的美誉,深受消费者青睐。下图为1990~2019年福安月均降水量及雨日数、日照时间及日照百分比分布情况。

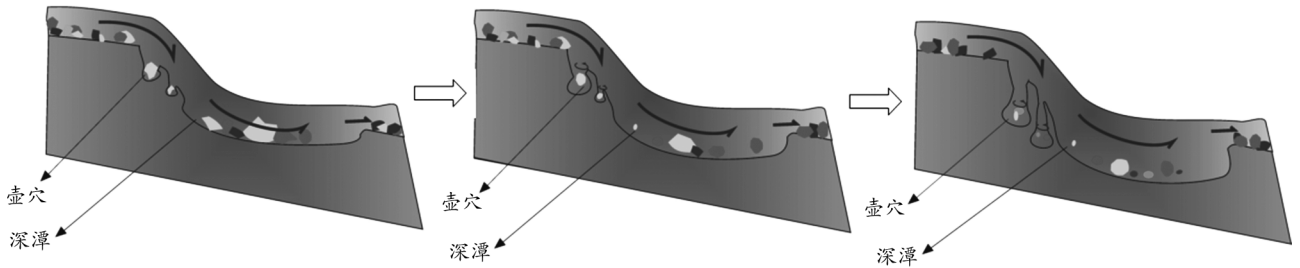


- (1) 指出福安日照时间的季节分布差异,并说明原因。(6分)
- (2) 从气候角度分析穆阳水蜜桃品质优异的原因。(8分)
- (3) 简析穆阳流域两岸大量种植水蜜桃的优势自然条件。(8分)

37. 阅读图文资料,完成下列要求。(24分)

梅岭位于南昌市西部,山体呈东北—西南走向,属于典型的花岗岩地貌。这里山岭起伏,水流湍急,并常有断崖瀑布发育,在瀑布下有深潭,潭中分布着许多“口小、肚大、底平”的壶穴。下图示意梅岭水体景观和壶穴地貌的形成过程。





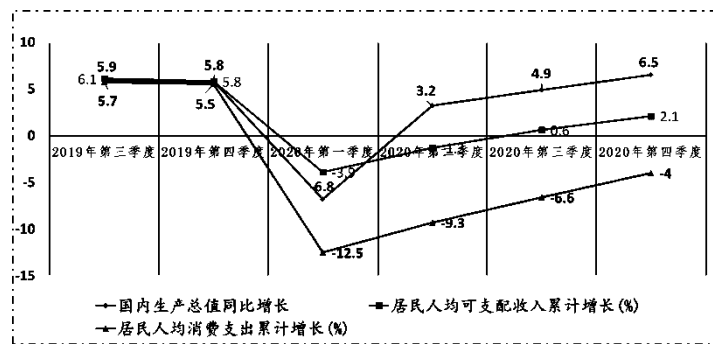
- (1) 指出形成梅岭水体景观和壶穴的内力、外力作用。(6分)
- (2) 说明梅岭水体景观具有“上有瀑、下有潭、外有溪”分布特征的原因。(9分)
- (3) 概括壶穴地貌的形成过程,并推测其发展趋势。(9分)

38. 阅读材料,完成下列要求。(14分)

2021年牛年春节,中国消费喜迎开门红。

#### 材料一

2019年第三季度—2020年第四季度中国经济发展相关情况



#### 材料二

新冠疫情极大地改变了居民的部分生活方式和消费习惯,民众更加注重体验,追求个性化消费。适应这一时代要求,2021年牛年春节,在5G、物联网、大数据等新一代信息技术的加持下,不少商家、经营者改走线上路线:从快递年货、年夜饭外卖到“云逛街”,从“线上观花市”到“线上打年货”……“基于网络非接触式的新型消费模式”不断提质扩容,这些“不打烊的线上服务”将消费者的需求和生产者、供给者充分对接,让中国超大规模的消费潜力加速释放,中国消费在牛年春节喜迎“开门红”。

- (1) 结合相关社会现实,解读材料一所蕴含的经济信息。(4分)

(2)结合材料二,运用经济生活知识,说明中国消费在牛年春节喜迎“开门红”的道理。(10分)

39. 阅读材料,完成下列要求。(12分)

在2021年2月25日举行的全国脱贫攻坚总结表彰大会上,习近平总书记庄严宣告:我国脱贫攻坚战取得了全面胜利!

中华民族脱贫奇迹的缔造,在于中华民族在中国共产党的领导下,走出了一条中国特色减贫道路,这就是:在党的领导下,坚持以人民为中心的发展思想,坚定不移走共同富裕道路;坚持发挥我国社会主义制度能够集中力量办大事的政治优势,形成脱贫攻坚的共同意志、共同行动;坚持精准扶贫方略,用发展的办法消除贫困根源;坚持调动广大贫困群众的积极性、主动性、创造性,激发脱贫内生动力;坚持弘扬和衷共济、团结互助美德,营造全社会扶危济困的浓厚氛围;坚持求真务实、较真碰硬,做到真扶贫、扶真贫、脱真贫。

结合材料,运用政治生活知识,说明中国共产党是如何带领中华民族缔造脱贫奇迹,取得脱贫攻坚战的全面胜利的。(12分)

40. 阅读材料,完成下列要求。(26分)

#### 材料一

2021年2月21日,中央一号文件强调要深入挖掘、继承创新优秀传统乡土文化,赋予中华农耕文明新的时代内涵。

乡村文化总体而言可分为四大类,一是农耕文化,包括农学思想、耕作制度、农业技术等;二是乡村手工艺,像木匠、石匠、篾匠、刺绣、酿造等技艺,凝结了先人的生存智慧;三是乡村景观文化,它由聚落景观、田园景观、社会生活景观和自然环境景观等共同构成,集中体现人与自然的和谐关系。四是乡村节日与习俗,生老病死、婚丧嫁娶的习俗,以及民间信仰与禁忌等广泛内容。

#### 材料二

新时期要推进乡村文化建设,需特别遵守以下两个原则:一是坚持农民主体原则。农民是乡村的主人,也是乡村文化的受益者,只有农民最理解乡村文化与自身生产、生活的关系。二是坚持保护好传统村落原则。丰富的农业文化以及尊老爱幼等传统美德,存在于式样各异的乡村空间结构和社会结构、村落形态、村落公共空间中,乡村的劳动与消费方式、节日与交往习俗,以及乡村的家庭、家族、邻里等,都是乡村文化得以存在和延续的载体。

(1)结合材料一,运用寻觅社会的真谛有关知识,说明继承创新优秀传统乡土文化的意义。(12分)

(2)结合材料,阐释新时期推进乡村文化建设应特别注意遵守的两个原则及其依据所体现的文化生活道理。(10分)

(3)请就如何继承和创新优秀乡土文化提出两条合理建议。(4分)

41. 阅读材料,完成下列要求。(25分)

#### 材料一

中国的地形,由西北向东南倾斜,中国的长江大河,也大都由西向东流入大海,南北的交通,从来没有很好地整顿过。隋王朝面临的历史任务,就是必须把南方的经济重心与北方的政治军事重心联系起来,使南北成为统一的整体。沟通南北的运河大工程,就是在这种新的客观形势下进行的。这条运河通运以后,把黄河、淮河、长江、钱塘江联系起来;使南北物产的交流有了通畅的渠道,沿运河的干线上,兴起了许多商业城市;使继隋而兴的唐、宋王朝,由于南北经济、文化联系进一步密切而愈趋稳固,从而也加强了全国的统一。

——摘编自王仲荦著《隋唐五代史》

## 材料二

1869年,苏伊士运河通航,把英国到上海的航线从14 000英里缩短为11 000英里。当年,从中国运往英国去的货物便有14%是通过苏伊士运河输送的,这个比例,到1873年上升为70%,再到1880年,更上升为90%。红海是无风地带,帆船进入红海必须靠人力牵拉航行,因此,苏伊士运河只是一条通行轮船的水道,并未缩短帆船的航线。这就更加促进了轮船取代帆船的过程。1869年苏伊士运河的通航,更激化了西方各国在中欧航线上的竞争。苏伊士运河通航以后,老的航运公司也大力更新自己的设备,增强竞争力量。

——摘编自严中平主编《中国近代经济史(1840—1894)》

(1)根据材料一并结合所学知识,概括隋唐运河开凿的历史背景并分析其意义。(15分)

(2)根据材料二并结合所学知识,简析苏伊士运河开通产生的影响。(10分)

42. 阅读材料,完成下列要求。(12分)

## 材料

文艺复兴时期的思想家、艺术家,法国大革命前的一大批卓越的学者、哲学家,俄国革命前思想艺术界的群星们,无不把改变人的思想观念看成是解决时代课题的当务之急。

但是,与上述模式不同的是,辛亥革命虽然没有取得预期的成功,但它推翻了清朝皇帝,确实一定程度上、一定范围内传播了民主、自由的理念。但假如没有辛亥革命,以及辛亥革命后出现的社会现实,就不会有这样一些人这样去思考,得出这样的结论。

——郭双林、王续添主编《中国近代史读本》

结合材料与所学知识,围绕“思想文化与政治变革”自行拟定一个具体的论题,并就所拟论题进行简要阐述。(要求:明确写出所拟论题,阐述须有史实依据)

(二)选考题。请考生从2道地理题、3道历史题中每科任选一题作答。如果多选则每科按所做的第一题计分。

43.【地理——选修3:旅游地理】(10分)

2019年8月14日,某平台在贵州荔波县发布了“山里DOU是好风光”扶贫项目成果,邀请多位短视频达人,针对当地景点及文化进行多层次、多角度的视频内容创作。经过数月的项目实施,荔波文旅品牌获得了广泛关注。截至8月初,相关视频播放量超过2.4亿次。同年“五一”假期,荔波共接待游客526 350人次,同比增长65.98%,旅游综合收入同比增长68.11%。各项数据均为历年来增长幅度最大值。

说明扶贫项目助推当地旅游业发展的作用。

44.【地理——选修6:环境保护】(10分)

目前,我国部分地区的垃圾处理方式仍比较落后,一般进行简易填埋,即利用坑、塘、洼地将垃圾集中堆置在一起,不加掩盖,未经科学处理。2020年7月31日,国家多部委研究制定了《城镇生活垃圾分类和处理设施补短板强弱项实施方案》,全面推进焚烧处理能力建设,要求2023年基本实现原生生活垃圾“零填埋”。

说明垃圾简易填埋的危害,并提出实现原生生活垃圾“零填埋”的合理措施。

45.【历史——选修1:历史上重大改革回眸】(15分)

## 材料

佛教从唐初以来即受到统治者的推崇和栽培。佛教寺院土地不输课税,僧侣免除赋役,寺院经济过分扩张,侵蚀着官府的财政收入。唐武宗崇信道教,深恶佛教,加上讨伐藩镇,财政紧张,因而,在李德裕的支持

下,于会昌五年(845)四月下令清查天下寺院及僧侣人数。五月,又命令长安、洛阳左右街各留二寺、天下诸郡各留一寺。八月,令天下诸寺限期拆毁,毁天下寺四千六百余所、僧居四万所,拆下来的寺院材料用来修缮政府驿,金银佛像上交国库,铁像用来铸造农器,铜像及钟、磬用来铸钱。没收寺产良田数千万顷、奴婢十五万人。僧尼迫令还俗者,共二十六万零五百人,还释放了供寺院役使的良人五十万以上。

——摘编自漆侠主编《中国改革史》

(1)根据材料并结合所学知识,概括唐武宗“灭佛”的历史背景。(6分)

(2)根据材料并结合所学知识,说明唐武宗“灭佛”的历史影响。(9分)

46.【历史——选修3:20世纪的战争与和平】(15分)

#### 材料

1914—1918年战争期间,很多交战国是统治非洲地区的殖民列强。德国殖民政府要应对英、法等殖民力量联合。100多万非洲士兵直接参与了军事作战,并被鼓励去杀死之前被看成是神圣的“白人”敌人。由于战争,在非洲的欧洲人变得更少了,非洲人借机掀起了武装起义。殖民当局对这些起义进行了无情地镇压。在一战后的数十年里,非洲经济生活发生了彻底的变化。殖民列强在非洲寻求两个重要的经济目标:确保殖民地负担统治殖民地的行政、司法机构、警察和军队的费用;发展外向型经济,出口未加工的原材料或最少加工的经济作物,以换取国外的产品。殖民当局建立的经济结构改变或破坏了从前自给自足的非洲经济。

——摘编自赫伯特·齐格勒著《新全球史》

(1)根据材料并结合所学知识,概括非洲卷入第一次世界大战的历史背景。(6分)

(2)根据材料并结合所学知识,分析一战对非洲产生的影响。(9分)

47.【历史——选修4:中外历史人物评说】(15分)

#### 材料

1978年12月,在香港根基雄厚的霍英东一马当先,决心投资内地。他投资内地的第一个项目,便是选择在中山一处新发现的温泉上修建酒店。中山温泉宾馆是中国第一个外商投资项目,霍英东坚持在一年内建成酒店。然而,当时国家计划经济下流行着“做又三十六,唔做又三十六”的说法,修建酒店的工程人员的积极性不高,工程进度缓慢。霍英东提出通过发奖金来激励员工,却被人说是资本主义作风。当时的阻力很大,但霍英东并未后退,坚持要尝试推行,最终大大提高了效率,酒店于1980年如期开业。上世纪80年代,邓小平到广东视察,第一次入住中山温泉宾馆时,发出了“不走回头路”的时代最强音。

——摘编自文轩《改革开放40年:霍英东“敢为天下先”开新局》

(1)根据材料并结合所学知识,分析霍英东率先在内地投资的动力。(6分)

(2)根据材料并结合所学知识,评价霍英东率先在内地投资的行为。(9分)