

文科综合能力测试



命题：华中师范大学考试研究院

成绩查询网址：huada.onlyets.com

关注微信公众号查询成绩：cenu_testing

本试题卷共 12 页。全卷满分 300 分，考试用时 150 分钟。

★祝考试顺利★

注意事项：

1. 答题前，考生务必将自己的姓名、准考证号写在答题卡和本试卷上。
2. 回答选择题时，选出每小题答案后，用铅笔把答题卡上对应题目的答案标号框涂黑，如需改动，用橡皮擦干净后，再选涂其他答案标号。回答非选择题时，将答案写在答题卡上，写在本试卷上无效。
3. 考试结束后，将本试卷和答题卡一并交回。

一、选择题：本题共 35 小题，每小题 4 分，共 140 分。在每小题给出的四个选项中，只有一项是符合题目要求的。

古楼一般指两层以上、内部设有楼梯可攀登的房屋，承载了我国悠久的历史。我国现存的古楼以砖石木结构为主，各地的人为破坏和过度开发给古楼的保护带来了严峻考验。图 1 示意我国现存古楼空间分布，据此完成 1~2 题。

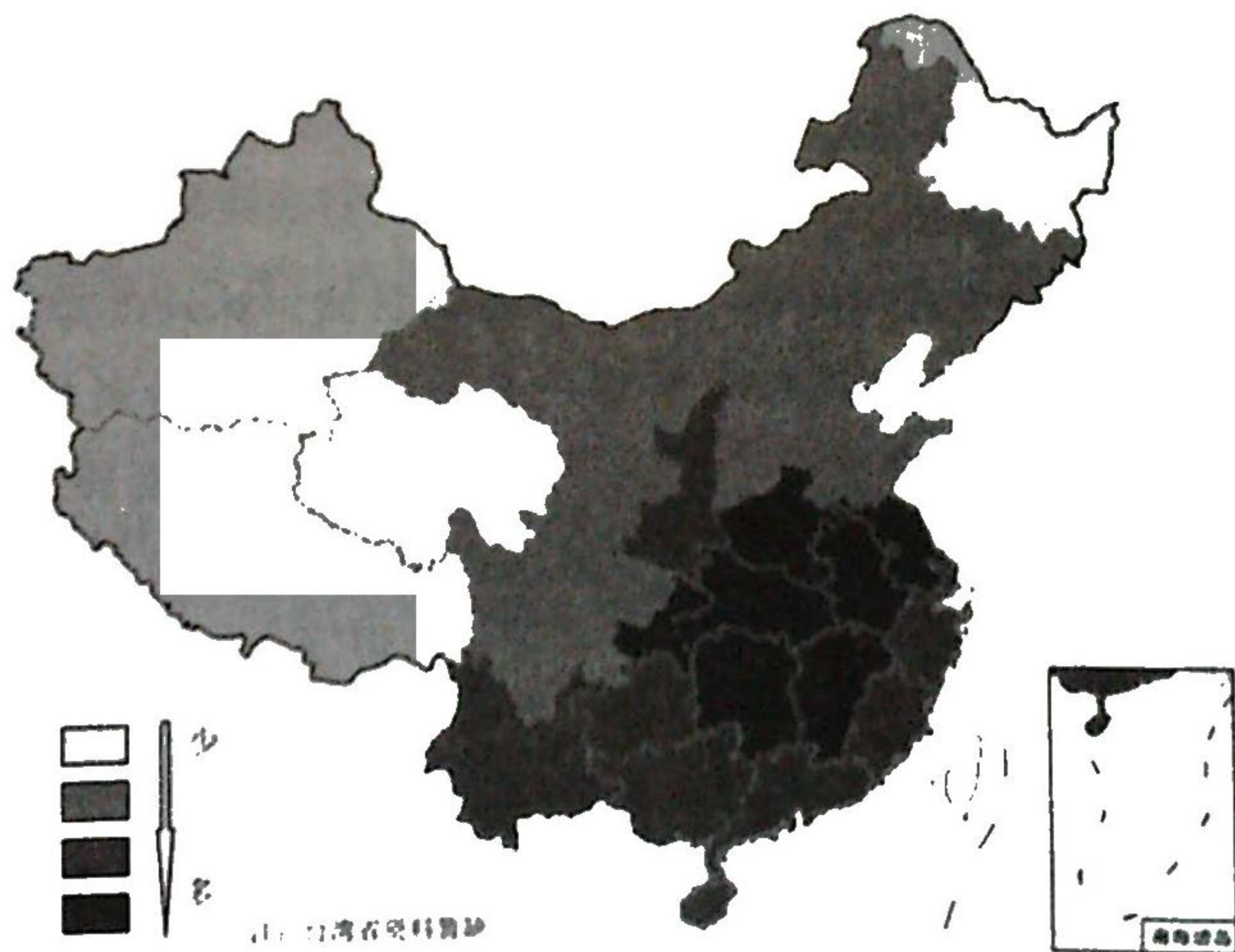


图 1

1. 我国现存古楼的整体空间分布规律是

- A. 沿海分布多，内陆分布少
- C. 川藏分布多，华北分布少

- B. 东南分布多，西北分布少
- D. 线状分布多，团状分布少

2. 为加强对现存古楼的保护，可采取的措施是

- ①适当地发展古楼旅游
- ③采用钢材替换砖石木

- ②加快古楼的集中搬迁
- ④推进古楼数字化采集

A. ①②

B. ②③

C. ③④

D. ①④

相对湿度是空气中实际水汽压与同温度条件下饱和水汽压的比值,用百分数表示。图2示意我国某城市某日气温和相对湿度的变化。据此完成3-5题。

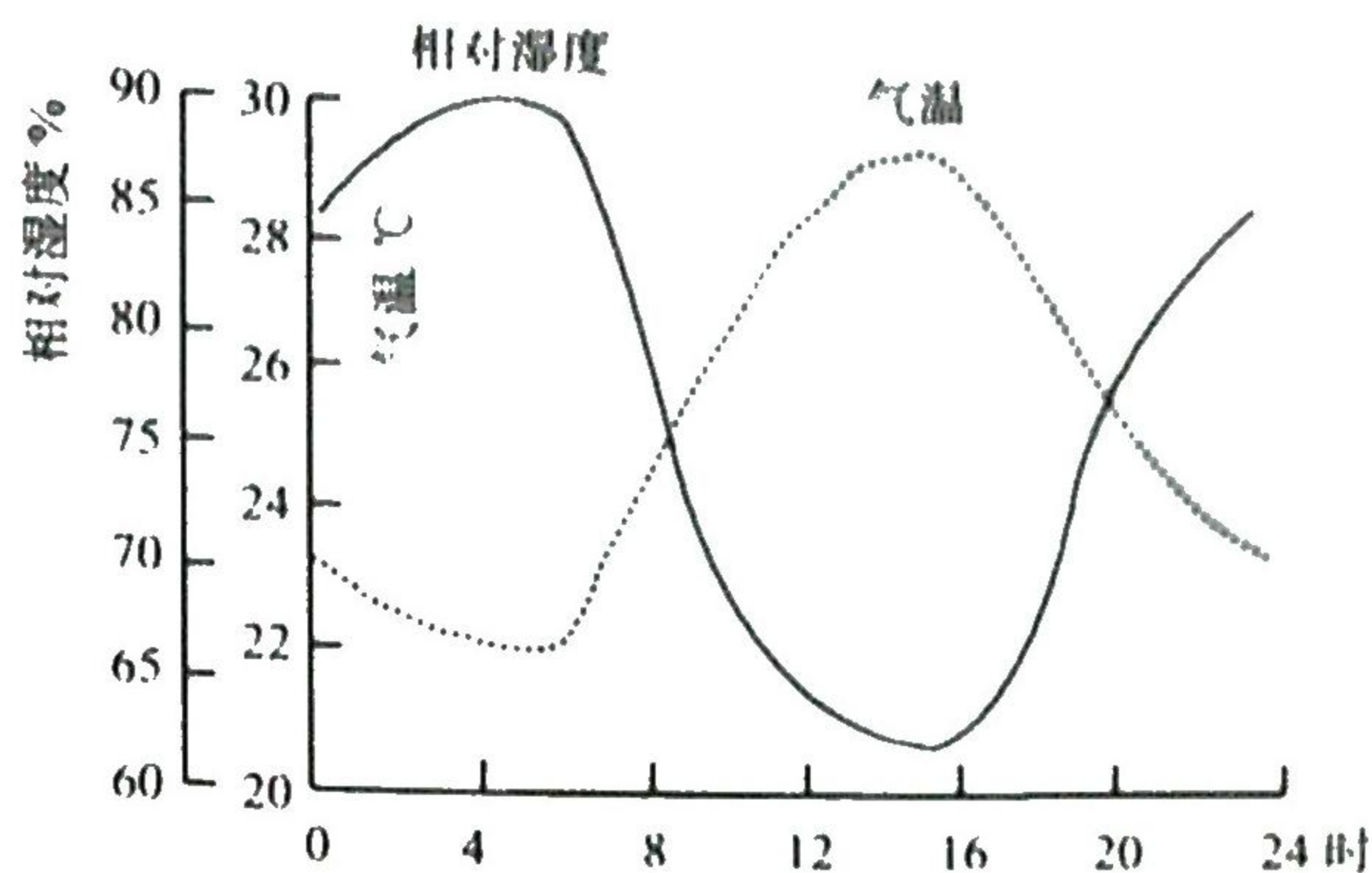


图2

3. 该城市最可能位于

- A. 杭州 B. 北京 C. 成都 D. 长春

气温升高时相对湿度减小的原因是

- A. 实际水汽压增大,饱和水汽压减小
 B. 实际水汽压增大,饱和水汽压增大得更多
 C. 实际水汽压减小,饱和水汽压增大
 D. 实际水汽压减小,饱和水汽压减小得更多

5. 下列现象中,可用气温和相对湿度日变化规律解释的是

- A. 华北地区春季多扬沙 B. 华南夏季午后多阵雨
 C. 四川盆地秋季多夜雨 D. 江南地区冬季多晨雾

美国地理学家 Stanley Schumm 根据密西西比河流域的特征,将一个理想的流域分为三个部分(图3)据此完成6~8题。

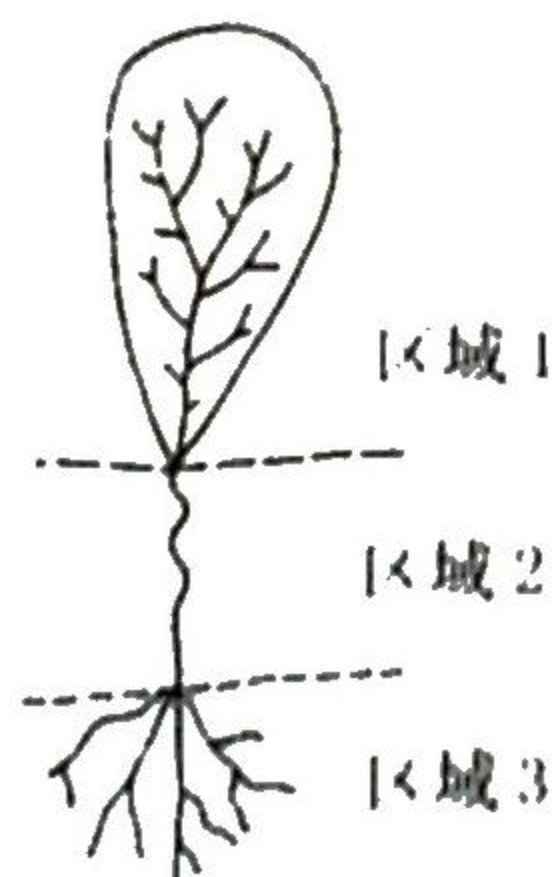


图3 理想水系的三分法

6. 下列关于各区域发生的主要地表过程的总结,正确的是

- ①汇流 ②泥沙输送 ③产沙 ④泥沙沉积
 A. 区域1--①③,区域2--②,区域3--④
 B. 区域1--①,区域2--②③,区域3--④
 C. 区域1--③,区域2--①②,区域3--④
 D. 区域1--①,区域2--③,区域3--②④

7. 区域2多年泥沙含量基本稳定,主要原因是区域2

- A. 径流量稳定 B. 流域内植被覆盖条件较好
 C. 河道较平直 D. 沉积能力与侵蚀能力持平

8. 有人认为,这一划分方式并不适用于中国的黄河流域,主要原因是黄河

- A. 含沙量过高 B. 水沙不同源 C. 流域面积小 D. 位于季风区

勺状沟壑是指独立发育在黄土坡面上,整体形态上大下小,空间形态呈勺子状的地貌形态(图4)。它是黄土高原西部及西北边缘广泛存在的一类沟,沟体从上到下逐渐变窄,变浅甚至消失于坡面,与其他沟谷没有明显的联系。据此完成9~11题。

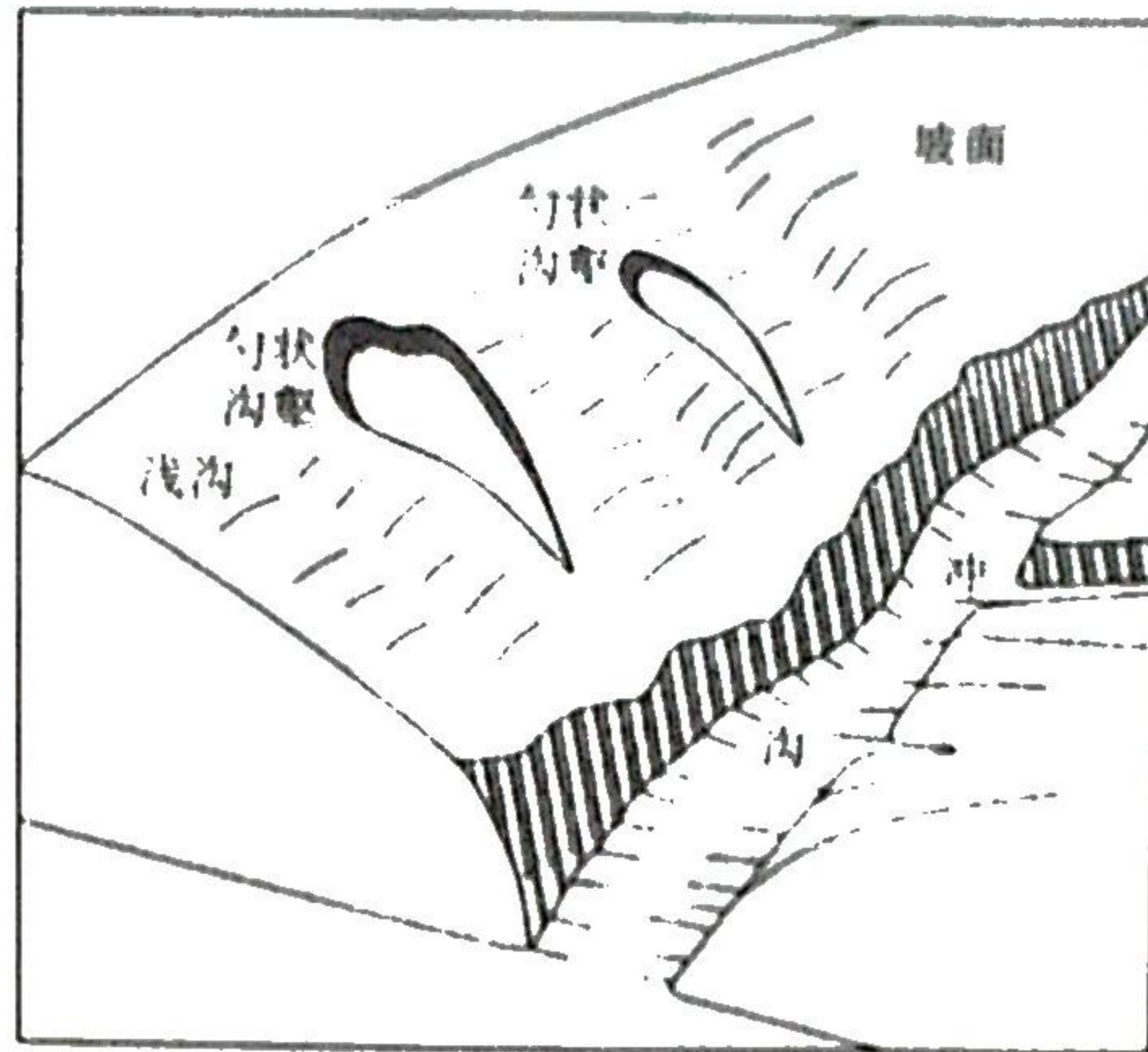


图4

9. 与勺状沟壑形成直接相关的因素是

- A. 气温 B. 植被 C. 土壤 D. 降水

10. 勺状沟壑地貌发育依次经历的主导作用是

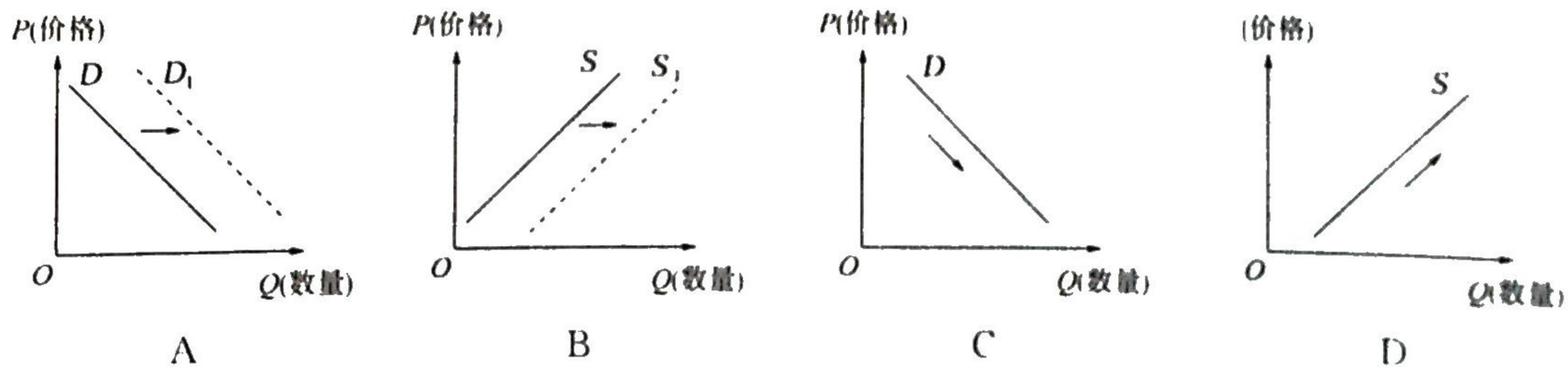
- A. 地下水侵蚀、重力崩塌、溯源侵蚀 B. 溯源侵蚀、重力崩塌、地下水侵蚀
C. 地下水侵蚀、溯源侵蚀、重力崩塌 D. 重力崩塌、溯源侵蚀、地下水侵蚀

11. 雨季勺状沟壑地貌变化最显著的要素是

- ①长度 ②宽度 ③粒径 ④深度
A. ①② B. ②③ C. ③④ D. ①④

2021年9月,商务部发布通知:支持新能源汽车加快发展,会同相关部门深入开展新能源汽车下乡活动。据此回答12~13题。

12. 根据新能源汽车下乡政策规定,凡购买入围新能源下乡名单内车辆的城乡消费者,都能在活动期限内享受汽车企业为下乡活动提供的优惠,包括购车优惠、随车充电桩安装等多项服务。不考虑其他因素,能正确反映这一政策对新能源汽车需求影响的图示是



13. 尽管国家对购置新能源汽车的优惠力度在不断增大,但在三四线城市和部分农村地区,居民购置新能源汽车的热情依然不高。导致这一现象的原因可能有

- ①农村居民恩格尔系数不断提高,限制了其消费新能源汽车的能力
②售后服务网点较少,导致消费者购车后很难享受到专业的售后服务
③公共充电设备等配套设施不完善,制约着农村消费者对新能源汽车的购买力

④入围下乡名单内的新能源汽车的市场售价远高于传统燃油汽车

A. ①② B. ①④ C. ②③ D. ③④

14. 2021年9月,国务院发布了《横琴粤澳深度合作区建设总体方案》。财政部决定在横琴实施特殊的税收优惠政策,对在合作区工作的境内外高端人才和紧缺人才,其个人所得税负超过15%的部分予以免征;对在合作区工作的澳门居民,其个人所得税税负超过澳门税负的部分予以免征。这一政策的实施

- ①有利于促进人才聚集,吸引澳门居民来合作区就业创业
- ②会导致合作区财政收入减少,影响国家的宏观调控能力
- ③目的在于支持合作区建设,助力粤澳深度合作
- ④旨在调节个人收入分配,促进社会公平

A. ①③ B. ①④ C. ②③ D. ②④

15. 2021年8月26日,我国首张跨境服务贸易负面清单——《海南自贸港跨境服务贸易负面清单》正式施行,除专业服务、交通运输、金融、教育等领域外,对境内外服务提供者在跨境服务贸易方面一视同仁,平等准入。以此为基础,将在全国推进实施跨境服务贸易负面清单。这有利于

- ①提高外资经济比重,使之成为社会主义市场经济的组成部分
- ②全面开放市场,深度融入经济全球化进程
- ③倒逼中国服务企业对标国际标准,提升服务质量与水平
- ④提高服务贸易自由化便利化程度,增强国际竞争新优势

A. ①② B. ①③ C. ②④ D. ③④

16. 武汉县华林是融景区、街区、社区、校区为一体的老社区,群众需求各异,矛盾分歧较多,日常管理难度大。为此,社区打造“家门口的议事厅”平台,鼓励居民出谋划策,邀请更多新阶层人士共同参与社区治理,成功解决了社区改造、居民停车等治理难题,形成了景区热、街区活、社区暖、校区静的和谐局面。这种自治管理模式

- ①保证了社区居民行使决策权
- ②丰富了居民自治的实践形式
- ③最大限度满足了群众各种需求
- ④有效缓解了基层社会矛盾

A. ①③ B. ①④ C. ②③ D. ②④

17. 1927年,毛泽东在三湾村枫树坪改编部队,开创了人民军队“支部建在连上”的基本原则和制度,确立了党对军队的领导,保证了我党的军队历经艰难而不溃散。此后,这一原则不断得到巩固、强化和发展,逐渐覆盖到“将支部建在楼上、项目上、协会里、社团中”等更多领域、各条战线。新时代进一步落实好“支部建在连上”的基本原则和制度

- ①完善了党对国家的领导方式和执政方式
- ②是中国特色社会主义制度最大的优势
- ③有利于实现党组织向社会最基层延伸
- ④有利于更好发挥基层党组织的战斗堡垒作用

A. ①② B. ①③ C. ②③ D. ③④

18. 截至2021年10月,中国已经向100多个国家和国际组织提供了15亿剂新冠肺炎疫苗和原液。中国疫苗企业已在多个国家启动合作生产。中国驻联合国代表在10月1日的联合国大会上呼吁各国加强团结,早日实现疫苗公平分配,共同战胜疫情。这表明

- ①中国以实际行动践行人类命运共同体理念
- ②联合国能够在构建公平的国际秩序中发挥重要作用
- ③中国作为主导力量在全球抗击疫情中发挥积极作用

④中国积极兑现国际承诺以支持联合国的各项工作

A. ①②

B. ①④

C. ②③

D. ③④

19. 2021年国庆节期间上映的影片《长津湖》，讲述了1950年中国人民志愿军在零下四十摄氏度的长津湖地区与美军直接较量，给予美军歼灭性打击，直接改变了抗美援朝战争发展走势的故事。当看到我志愿军战士最后冻僵在原地仍保持冲锋姿势时，每一位观众的内心都被深深地震撼了。这表明

①文化氛围对人有潜移默化的影响

②大众传媒是传播革命文化最有效的手段

③积极参加文化活动有助于培养健全人格

④革命文化具有历久弥新的价值

A. ①③

B. ①④

C. ②③

D. ②④

20. 近年来，江苏省某镇加大乡村文化设施建设力度，提档升级农家书屋。为培养当地企业职工的阅读兴趣，该镇探索“农家书屋+职工书屋”新模式，开创了村企共建共享、互帮互助的新局面。此外，该镇还探索出“农家书屋+红色教育”党史学习新阵地、“农家书屋+绿书签”护苗成长第二课堂等。“农家书屋+”模式

①是发展文化产业、保障村民基本文化权益的基本途径

②创新了当地加强社会主义核心价值观教育的途径

③丰富了群众精神文化生活，奠定了文化自信的基础

④有利于提升村民文化与道德修养，助推乡村振兴

A. ①②

B. ①③

C. ②④

D. ③④

第24届冬奥会和第13届冬残奥会计划分别于2022年2月、3月在北京举办。据此回答21~22题。

21. 为切实履行节能减排承诺，助力碳中和远景目标实现，北京市决定绿色办奥：建设场馆全面满足绿色建筑标准，赛时将实现所有场馆100%使用绿色电力，赛事使用的清洁能源车辆占比为历届冬奥会最高……将碳减排、碳中和变为大型赛事活动筹办的“硬指标”。北京市绿色办奥

①表明当前必须将碳中和远景目标作为一切行动的依据

②说明人类的实践活动必须处理好人与自然关系

③表明我们服从生态环保规律就能办好大型赛事

④将对低碳、可持续等先进理念的推广产生示范作用

A. ①②

B. ①③

C. ②④

D. ③④

22. 2012年伦敦奥运会首创了大型活动可持续性管理体系，之后的历届奥运会都需要通过该体系论证。北京冬奥会丰富了该体系的内容，把大型活动可持续性管理体系、环境管理体系、社会责任指南三个国际标准整合为一体，形成“北京标准”。这蕴含的认识论道理是

①主客观条件的限制决定了认识具有反复性

②真理总是在不断推翻自身过程中向前发展

③认识的不断完善决定着实践的不断深化

④在实践中遇到的新问题推动认识不断深化

A. ①③

B. ①④

C. ②③

D. ②④

23. 读漫画《与其埋怨不如埋了怨》(图5,作者:林帝浣)。该漫画启示我们,在生活中

①要学会分清事物的主流与支流

②要有顽强拼搏、自强不息的精神

③要勇于承认矛盾是普遍存在的


④要学会利用社会提供的客观条件

A. ①②

B. ①④

C. ②③

D. ③④



与其埋怨
不如埋了怨

图5

24. 从甲骨文形体(图 6)来看,“德”字左边是“彳”(chì),表示行走,右边眼睛上有直线,表示“行正、目正”;发展为金文之后,右边眼睛下加了“一颗心”,即要“心正”。这一变化主要说明



图 6

- A. 中国文字结构发展一脉相承
B. 儒家重德尚贤观点影响较为深远
C. 早期社会行为规范逐渐发展
D. 心理认同是华夏形成的核心标准
25. 秦始皇每灭一国,都以其地设置郡县。郡县大体是根据自然区域而划分,一郡或两郡就是一个自然区域,多半以平原或盆地为中心,边缘则为山地或高地。这反映出秦
- A. 郡县同为地方最高级别行政单位
B. 开创了郡县制取代分封制的先例
C. 致力于边疆少数民族地区交融开发
D. 强化中央集权提高地方治理效率
26. 南北朝时期,南方农业基本上改变了原来“火耕水耨”的耕作方法,推行中原地区精耕细作的经验,使“甲勤本业”的江南“一岁或稔,则数郡忘饥”。由此可知
- A. 南方自然条件利于农耕发展
B. 南方经济区域差异分工明显
C. 北民南迁推动生产技术传播
D. 北方农业经济逐渐落后南方
27. 朱熹曾亲自制订白鹿洞书院学规,教导生徒做到“父子有亲,君臣有义,夫妇有别,长幼有序,朋友有信”;陆九渊应邀在白鹿洞书院讲学时,反复教育士子们不要追求官资高低,而要做一个“供其职,勤其事”进而利国利民的君子。这一现象反映出
- A. 理学与心学开始分道扬镳
B. 理学与书院发展交相辉映
C. 儒家思想完成哲学化建构
D. 科举改革推动理学的繁荣
28. 1905 年,署两江总督兼南洋大臣周馥上奏:“查西国海权以潮退三海里为限。英、法等国海峡甚狭,海滨小岛亦多近岸。中国沿海岛屿星罗棋布,深有相隔百余海里者……若仅以潮退三海里为限则名为保护,反蹙海疆,不如我向来领海之权,较为上策。”清廷“如所请行”。这表明当时的士人在维护中国海权中
- A. 照搬了西方理念的国际法框架
B. 考虑了中国历史实践的独特性
C. 摒弃了起源于西方的领海观念
D. 有效抵制了西方对华经济侵略
29. 20 世纪初,某知识分子曾说:“我们在这黑暗的中国,死寂的北京,也仿佛分得那曙光的一线,好比在沉沉深夜中得一个小小的明星,照见新人生的道路。”这段材料最能说明
- A. 辛亥革命导致清朝统治土崩瓦解
B. 国人从俄国十月革命中受到启发
C. 民主与科学的价值观念广泛传播
D. 五四运动掀起反帝反封建的浪潮

表 1 1931—1937 年部分中共中央声明节选

1931. 9	《中国共产党为日本帝国主义强暴占领东三省事件宣言》	“变帝国主义压迫中国的战争为拥护苏维埃中国反帝国主义反国民党的革命战争”
1935. 8	《八一宣言》	“无论各党派间……有任何政见和利害不同……首先大家都应当停止内战,以便……为抗日救国的神圣事业而奋斗”

1936.9	《中共中央关于逼蒋抗日问题的指示》	“目前中国的主要敌人,是日帝,所以把日帝与蒋介石同等看待是错误的,‘抗日反蒋’的口号,也是不适当的”
1937.4	《中国共产党中央委员会告全党同志书》	“为了团结全国一致抗日……需要全国各党各派间的互相让步与妥协,需要取消国内两个政权的对立”

这主要表明

- A. 国民政府积极合作抗日
B. 抗日统一战线正式形成
C. 中共内外政策发生变化
D. 中共放弃国内革命斗争

31. 图 7 为 1955 年发行的“努力完成第一个五年建设计划”邮票。这可以用来说明




图 7

- A. 社会主义工业化稳步向前推进
B. 社会主义改造已经完成
C. 社会主义建设总路线成效显著
D. 社会主义制度基本确立
32. 雅典广场博物馆陈列着一处法院的计时漏壶(漏壶是一种用水计时的时钟)。在会议上采用漏壶计时,给每个人以公平的发言时间,即五升水,六分钟。这说明当时的雅典
- A. 城邦居民享有平等的发言权
B. 有相对成熟的民主程序设计
C. 公民有出席公民大会的权利
D. 有效保障了会议决策的正确
33. 传统观念认为,达·伽马首航利润是全部航行成本的 60 倍。而现今很多学者对此提出疑问,通过去掉远航成本和船员船只损失、史料查证并比较当时各地商品价格,认为实际利润可能只有航行成本的 6 倍。研究的变化表明
- A. 旧有历史研究成果失去价值
B. 达·伽马贪图名誉谎报利润
C. 大众认知时常与事实相背离
D. 史论因时代不同而有所变化
34. 在 19 世纪 20 年代,英国议会开始介入并扩大了对传统血腥、暴力体育运动的压制。英国相继颁发了道路法、城市警察法等相关法案,其中,道路法明确规定,在道路上踢足球罚款 40 先令。1846 年通过的关于圈地运动的法案,减少了更多人口去户外运动的机会。这表明
- A. 工业化引发新旧社会秩序的较量
B. 议会改革推动了英国民主的进程
C. 资本家试图延长工人的劳动时间
D. 工业文明致使社会公共道德失序
35. 信息化时代,法国国内电影票房因好莱坞电影的大举入侵而大幅下滑,法国青年趋之若鹜的是用英语演唱的歌星,法国歌星也用英语现场演唱;来自美国的畅销小说充斥法国书店;在高科技信息产业中,法语更是难敌英语。这一现象表明
- A. 文化扩展是美国推行冷战的重要手段
B. 法国文化已跟不上信息化时代的潮流
C. 文化产业投入大的国家扩张能力更强
D. 民族文化遭渗透的实质是经济全球化

二、非选择题:共 160 分。第 36~42 题为必考题,每个试题考生都必须作答。第 43~47 题为选考题,考生根据要求作答。

(一)必考题:共 135 分。

36. (22 分)阅读图文材料,完成下列要求。

部分领土位于帝汶岛的东帝汶,是世界上最不发达的国家之一,首都为帝力。该国第一大支柱产业是农业,然而粮食单产低、复种指数低,远不能自给。为解决粮食问题,进入 21 世纪以来,东帝汶逐步加强了与中国等国的国际合作。图 8 示意帝汶岛概况以及帝力的气候。

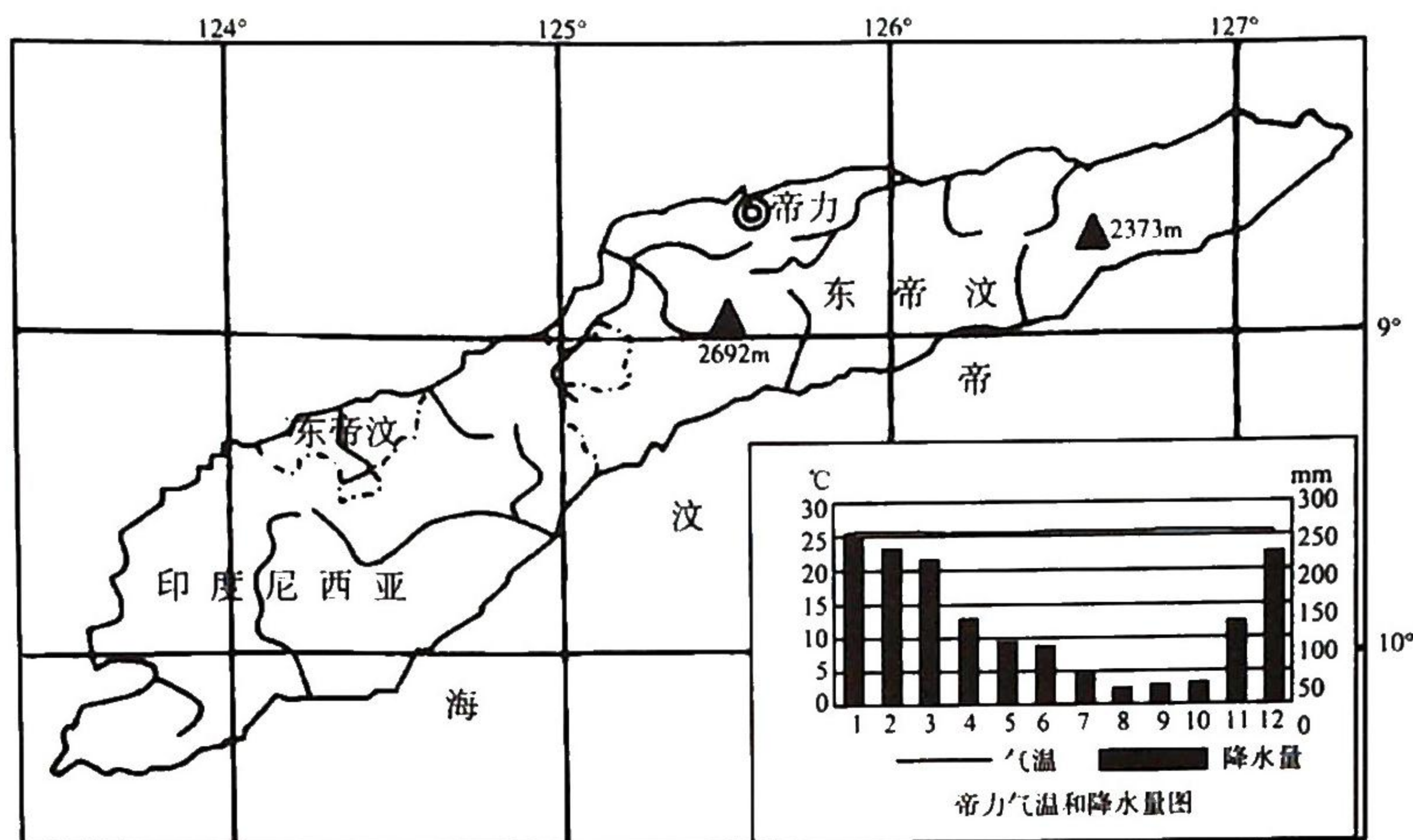


图 8

- (1)分析帝力的降水季节分布特点及成因。(10 分)
- (2)指出东帝汶的主要粮食作物,并分析其粮食问题产生的原因。(8 分)
- (3)请列举中国援助东帝汶的国际合作项目。(4 分)

37. (24 分)阅读图文材料,完成下列要求。

林蛙别称雪蛤,是我国重要的野生药用动物,主产于长白山区域。林蛙以活昆虫为食,其生活区域林荫密布,当温度超过 25°C 时,林蛙便藏匿到枯枝落叶下,当气温降至 10°C 时,林蛙从山上转入水中越冬,寒冬集中至深水区休眠。目前我国天然林蛙数量显著下降,被列为国家二级保护动物。近年来我国多地开始尝试人工养殖林蛙。吉林珲春是重要的林蛙产地,图 9 为吉林省地图及珲春市位置示意,图 10 为珲春市气候图。

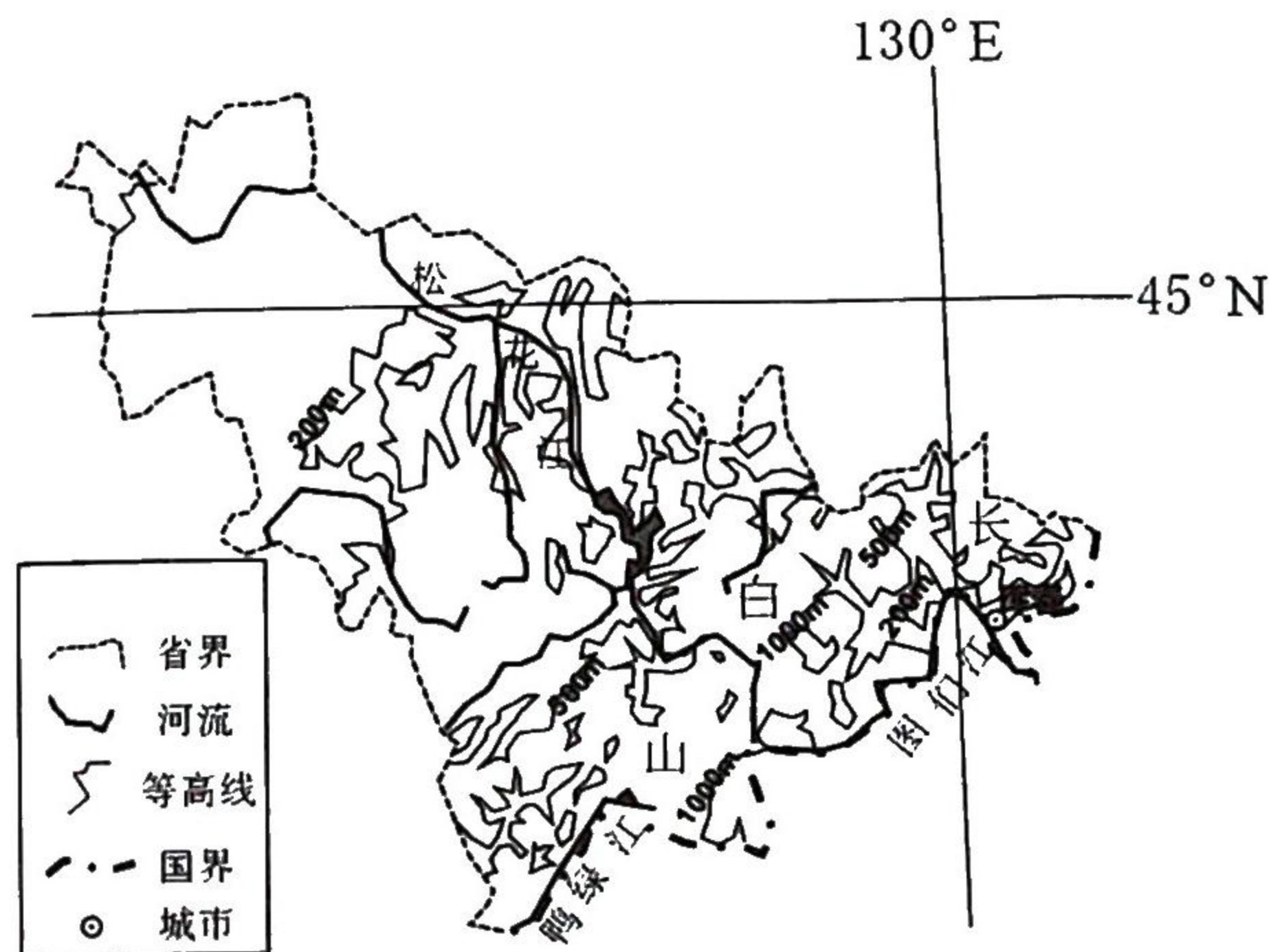


图 9

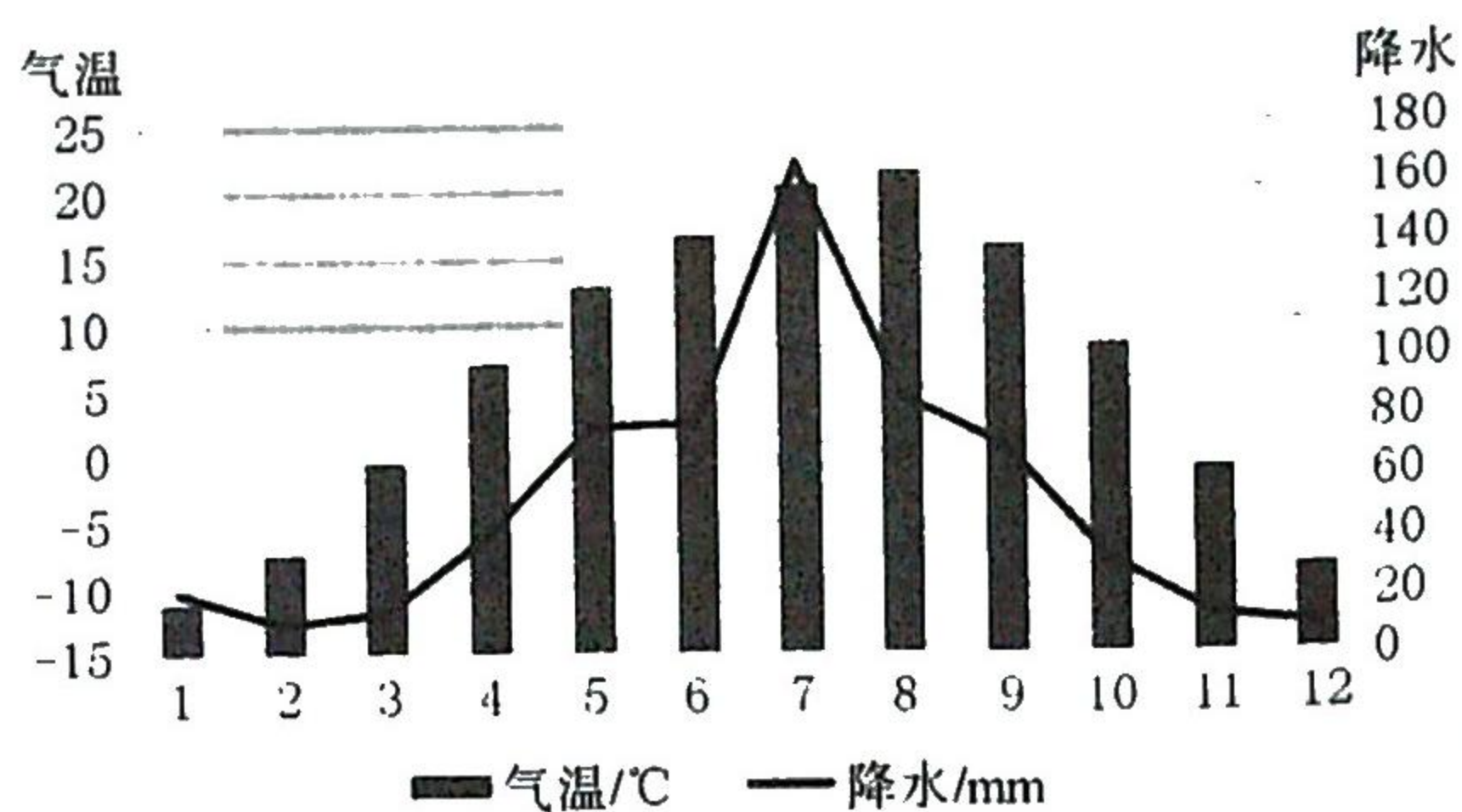


图 10

- (1) 从气候角度分析珲春及周边地区适合林蛙生存的原因。(6分)
- (2) 结合天然林蛙的生长习性,说明林蛙养殖场应具备的地形条件。(6分)
- (3) 推测导致天然林蛙数量下降的因素。(6分)
- (4) 有人建议在粤北地区人工养殖林蛙,你是否赞成?并说明理由。(6分)

38. (26分) 阅读材料,完成下列要求。

材料一

D公司是一家生产阿胶的老字号企业。为适应数字经济发展,2020年该公司决定进行数字化转型:建立基于微信生态的会员制社交新零售平台,用优质传播内容吸引新顾客流入;打造“工厂直达顾客”的个性化定制项目,将鲜制即食的阿胶产品直接送到消费者手中;开发大数据应用,洞察消费者的需求变化,研发新技术,开发新产品,改善消费体验,获得年轻消费者追捧;开展主题工业旅游等线下项目,带领消费者参观阿胶现代化生产线,让消费者体验创新产品的同时感受厚道的品牌形象和守正创新的企业精神。

2021年3月,D公司发布的2020业绩报告显示,公司当年扭亏为盈,实现总营收34.09亿元,同比增长14.79%,实现归母净利润4329万元。

材料二

在网络平台上,同样的商品或服务,老客户看到的价格反而比新客户贵出许多。这种“差别对待”被网友称为大数据“杀熟”。近几年来,对大数据“杀熟”进行“反杀”,也成为立法的趋势。

2019年1月1日起实施的电子商务法规定,“电子商务经营者根据消费者的兴趣爱好、消费习惯等特征向其提供商品或者服务的搜索结果的,应当同时向该消费者提供不针对其个人特征的选项,尊重和同等保护消费者合法权益”。

2020年10月1日起施行的《在线旅游经营服务管理暂行规定》明确提出:“在线旅游经营者不得滥用大数据分析等技术手段,基于旅游者消费记录、旅游偏好等设置不公平的交易条件,侵犯旅游者合法权益。”

2021年8月,全国人大常委会表决通过了《中华人民共和国个人信息保护法》,国家网信办发布《互联网信息服务算法推荐管理规定(征求意见稿)》,均明确互联网平台和商家不得过度收集个人信息、不得滥用算法权力、不得利用算法对消费者进行大数据“杀熟”。

- (1) 有人认为,在数字经济背景下,数字化转型是老字号企业重新焕发生机的关键。结合材料一,运用经济生活的知识对这一观点进行评析。(14分)
- (2) 结合材料并运用政治生活的知识,说明我国为什么要立法对大数据“杀熟”进行“反杀”。(12分)

39. (26分) 阅读材料,完成下列要求。

中国古代,人们用“小康”一词指代人民在辛勤劳作之后期待达成的一种理想的社会生活状态。新中国成立后,“小康社会”概念的形成经历了逐步完善的发展过程。

◆ 从“小康之家”到“小康水平”

1979年,邓小平在会见日本首相时,第一次使用“小康之家”来描述中国现代化。

1982年,党的十二大明确了“从1980年到20世纪末的20年……人民的物质文化生活达到小康水平的战略目标。”

1987年,党的十三大正式将实现小康确定为“三步走”发展战略的第二步目标。

◆ 从“小康社会”“总体小康”到“全面小康”

1997年,党的十五大报告中正式使用“小康社会”的概念,并提出“到2010年……使人民的小康生活更加宽裕”的发展目标。

2002年,党的十六大正式宣布,人民生活总体上达到小康水平,并提出全面建设小康社会的奋斗目标。

2007年,党的十七大提出了全面建设小康社会的奋斗目标的新要求。至此,“小康社会”的内涵已由单纯的经济方面拓展到政治、文化、社会民生和生态文明五个方面。

◆ “全面建成小康社会”

2012年,党的十八大提出到2020年全面建成小康社会,并赋予全面小康更高的标准、更丰富的内涵。

2017年,党的十九大提出决胜全面建成小康社会,要求使全面建成小康社会得到人民认可。

2021年7月1日,习近平总书记代表党和人民庄严宣告“在中华大地上全面建成了小康社会”。

(1)结合材料,运用发展的观点,分析新中国成立后“小康社会”内涵不断丰富过程。(12分)

(2)结合材料,运用文化生活的知识,分析中国共产党的“小康社会”思想对全面建成小康社会的作用。(10分)

(3)为庆祝中国共产党成立100周年,某中学团委决定在全校开展“红心向党”主题教育活动,请你为该活动提两条可行性建议。(4分)

40. (25分)阅读材料,完成下列要求。

材料一

晚明时期,随着思想领域的启蒙呼唤,市民文学兴起,其中世情小说的兴起就是一个重要的标志。这些小说大都取材于市井生活,开始关注市民阶层的心理和情感诉求,反映市民大众的生存状态、价值观念和审美情趣。在这场文学嬗变中,英雄豪杰、帝王将相、才子佳人纷纷退出舞台,或“屈居”舞台边缘,而包括商贾小贩、市井无赖、烟花女子在内的凡夫俗子则纷纷登场,成为世情小说的主角。这个时期,在传统的刻书中心建阳、杭州之外,南京、苏州、常州、湖州等地的刻书业也非常繁荣,一大批反映市民阶层生存状态与审美情趣的小说被推向市场。在晚明文学走向平民化的过程中,不仅有底层文人和书商的积极参与,也有很大一部分士大夫阶层自觉加以推动。他们或为世俗文学正名,或致力于通俗小说的评点和传播。万历年间,李贽在其著作中将《西厢记》《水浒传》等称为“古今至文”。

—摘编自张献忠《文学早在晚明就走向平民大众》

材料二

17世纪,随着英国社会市民阶层的扩大和审美趣味的移位,英国文学样式在这一时期出现了表面上不那么入流的文本,其中最值得一提的就是比较集中地出现的传奇和言情小说。言情小说讨论不同的主题,但都普遍揭示了某种更为广泛的冲突,即在实现自我目标与更为传统的伦理观之间的冲突。这一时期出现了不少蕴含政治和道德寓意的言情作品,例如玛莉·罗斯以希腊女神为题的《乌拉尼亚》,哲学家罗伯特·博伊尔写成的《狄奥多拉和狄迪墨斯的殉难》等。这些被冠以肤浅之名、迎合大众趣味的传奇或言情小说隐含的文化政治寓意起到了普及观念的作用,这是当时其他文学样式很难实现的。可以说,英国17世纪中的言情小说发挥了双重文化作用,实现了文学样式与平民观念的并置。

——摘编自王晓路《史实呈现与历史关系的重建——以十七世纪英国文学史研究为例》

- (1)根据材料并结合所学知识,分别说明晚明世情小说与17世纪英国言情小说产生的历史背景。(10分)
- (2)根据材料并结合所学知识,概括晚明世情小说与17世纪英国言情小说在文学创作方面特点的异同并评价其相同之处。(15分)

41. (12分)阅读材料,完成下列要求。

材料

以下为二战后世界经济史上的重要事件:

- ①1945年,法国大力实施煤矿、航空、电力生产国有化政策;
- ②1958年,《罗马条约》生效,欧洲经济共同体正式成立;
- ③1965年,苏联实施新经济体制,利用经济杠杆刺激企业改善管理;
- ④1971年,美国政府被迫宣布美元贬值;
- ⑤1974年,联合国通过“七十七国集团”起草的《关于建立国际经济新秩序宣言》;
- ⑥1975年,欧洲共同体与非洲、加勒比和太平洋地区46个发展中国家签订经济、贸易协定;
- ⑦1983年,第七届不结盟国家首脑会议通过《集体自力更生宣言》;
- ⑧1993年,中国勾画了社会主义市场经济体制的基本框架。

——摘编自吴于廑、齐世荣主编《世界现代史》

从材料中选取两条或两条以上事件,围绕世界经济发展拟定一个论题,并结合世界现代史的相关知识进行论述。(要求:明确写出所拟论题,论述史实准确,史论结合。)(12分)

(二)选考题。请考生从2道地理题、3道历史题中每科任选一题作答。如果多选则每科按所做的第一题计分。

42. (10分)【地理——选修3:旅游地理】

苏州市GDP多年位于江苏省首位。其地标建筑“东方之门”,总高度为301.8米,地处苏州工业园区CBD轴线东端,东临金鸡湖,被誉为“世界第一门”,现在已成为著名旅游景点。图11示意“东方之门”建筑外观,以黑、白、灰三色作为整个建筑的基色。



图11

结合“东方之门”的地理位置和朝向,分析其命名由来和基色特点。(10分)

43. (10分)【地理——选修6:环境保护】

珊瑚虫是海洋中的一种腔肠动物,一般生活在热带、亚热带浅海。在生长过程中,珊瑚虫能吸收海水中的钙和二氧化碳,然后分泌出石灰石,变为自己生存的外壳,逐渐形成珊瑚(礁)。珊瑚(礁)生态系统虽然不到全球海洋面积的0.2%,却拥有着几乎与陆地上的森林同样强大的生态功能,因而也被称为海洋中的热带雨林。它们默默地守护着海洋的生物,也是最无私的供给站。

指出影响珊瑚生长的海洋水文因素,并从生态环境角度评价珊瑚(礁)的地理意义。(10分)

44. (15分)【历史——选修1:历史上重大改革回眸】

材料

惠文、昭襄两王时期,秦国迅速崛起并积极向东扩张。秦惠文王统治时期,在占领魏国部分土地后,曾驱赶新占领土地上的魏人,再把秦人迁入新地,即采取“出其民”的占领措施。针对这种措施,《商君书·徕民》(约成书于昭襄王时期,法家代表作之一)明确指出:“秦之地,方千里者五……田数不满百万,其菽泽、溪谷、名山、大川之材物货宝,又不尽为用。”秦只赐予爵位土地给秦国人,这不利于长远发展,故应该大力招徕六国人民来秦,免除其三代赋税徭役,不用征发入伍,并写入律法,则能招徕百万从事生产之民。昭襄王统治时期,秦国基本没有再实行“出其民”的措施,但新占区的社会矛盾依然较为尖锐。

——摘编自熊永《排外抑或招徕——秦国惠昭之世的移民政策转向新探》

- (1) 根据材料和所学知识,概括《商君书·徕民》主张出现的时代背景。(7分)
- (2) 根据材料和所学知识,分析《商君书·徕民》中改革建议的可行性。(8分)

45. (15分)【历史——选修3:20世纪的战争与和平】

材料一

在远东同在欧洲一样,第二次世界大战之后也出现了冷战。但是,在远东,当1950年朝鲜军队入侵韩国而导致朝鲜战争爆发时,冷战变成了热战。第一阶段开始时,朝鲜军队迅猛地长驱直入离釜山港不到50英里的地方。此后1950年9月14日,一支美国军队在仁川登陆……朝鲜军队因其交通线被切断,仓促地向后退,正如他们先前轻率地向前推进一样。

——摘编自[美]斯塔夫里阿诺斯《全球通史》

材料二

朝鲜战争是朝鲜民族分裂的产物,而朝鲜民族分裂是美苏划分势力范围的结果。1950年6月25日清晨……朝鲜政权决定用武力统一朝鲜半岛……1950年,美国军队在仁川登陆,此后越过“三八线”打到鸭绿江边,威胁中国国家安全。中国人民志愿军在重重困难的条件下,毅然出兵朝鲜,这一战拼来了山河无恙、家国安宁,对中国和世界都有着重大而深远的意义。

——摘编自颜声毅《朝鲜战争:俄罗斯公布秘密档案》等

- (1) 据材料一、二指出朝鲜战争爆发记述的异同,并简析不同的原因。(10分)
- (2) 据材料并结合所学知识,分析中国抗美援朝胜利的积极影响。(5分)

6. (15分)【历史——选修4:中外历史人物评说】

材料

孙思邈(约581—682),目睹民众缺医少药,回顾自己幼遭风冷之疾,屡造医门,为治病而罄尽家产的痛苦经历,遂志学做一名“苍生大医”。他以历代名医为榜样,刻苦钻研医药典籍。他不仅重视书本知识,更注重实践。他遍历关中的山川,考察风土人情、采集药材、炼制丹药、沿途施诊,先后撰成《千金要方》及《千金翼方》等医学著作。《千金要方》与《千金翼方》是我国早期的医学百科全书。唐高宗显庆四年(659年),他接受朝廷的邀请,与政府合作开展医学活动,完成了世界上第一部国家药典《唐新本草》。这些医书问世后,备受世人瞩目,甚至漂洋过海,广为流传。宋徽宗敕封孙思邈为“妙应真人”,明清时期孙思邈被尊称为“药王”。日本在天宝、万治、天明、嘉永及宽政年间,都曾经出版过《千金要方》,其影响可见一斑。

——据白寿彝总主编《中国通史》等

- (1) 根据材料并结合所学知识,归纳孙思邈成为唐代名医的背景。(9分)
- (2) 根据材料并结合所学知识,评价孙思邈的历史贡献。(6分)